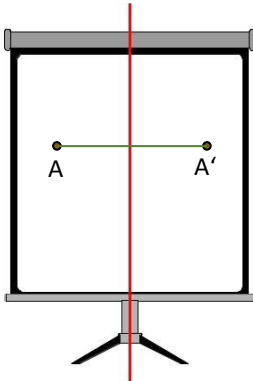


Symmetrische Figuren – Übungen


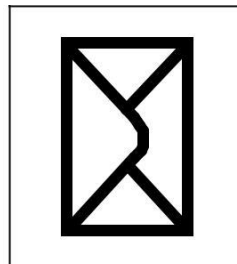
a) Kannst du die Lücken im Text ergänzen?










_____ und Bildpunkt sind
_____ weit entfernt von der Spiegelachse. Die
Verbindungsline von Originalpunkt und
steht _____ auf die Symmetrieachse.

Setze ein: normal, gleich, Originalpunkt, Bildpunkt

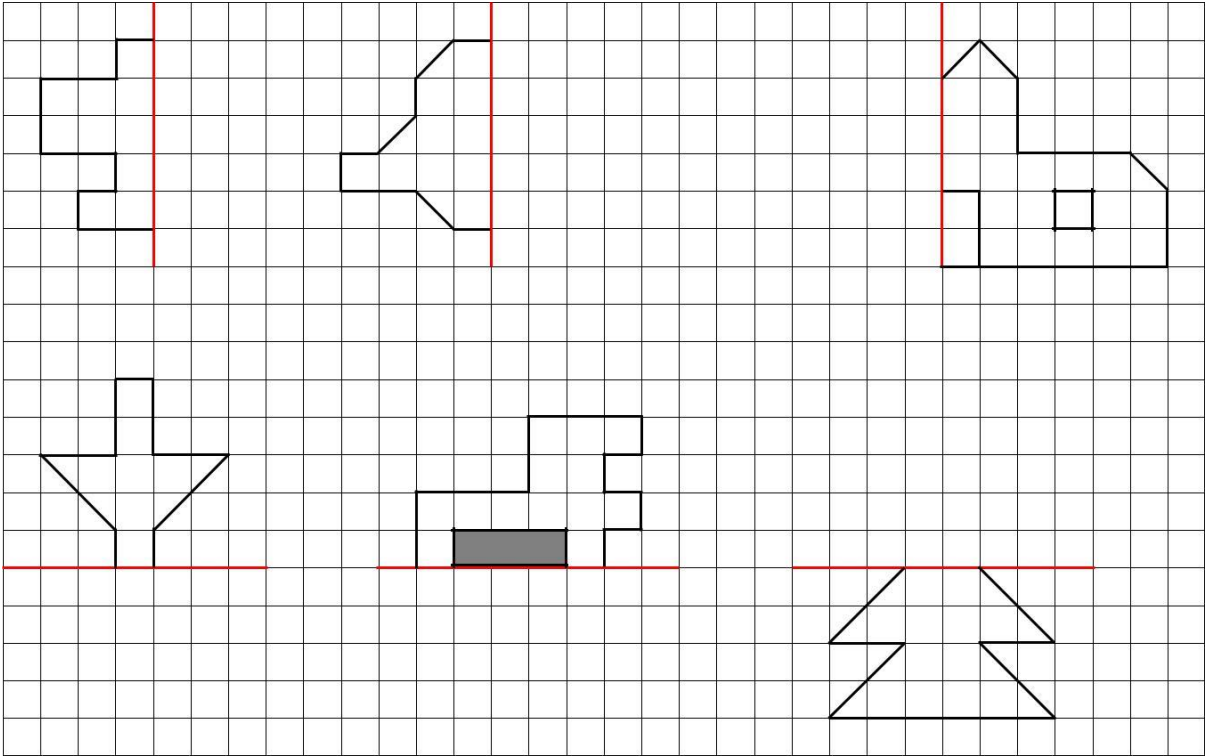
b) Zeichne hier die Symmetrieachsen rot ein!



c) Zeichne bei folgenden Bildern **alle** möglichen Symmetrieachsen ein!



a) Ergänze zu symmetrischen Figuren! Tipp: Zähle immer die Kästchenlänge der Striche!



b) Jetzt wird es schwieriger! Tipp: Zeichne erst die Eckpunkte, dann die Linien!

